
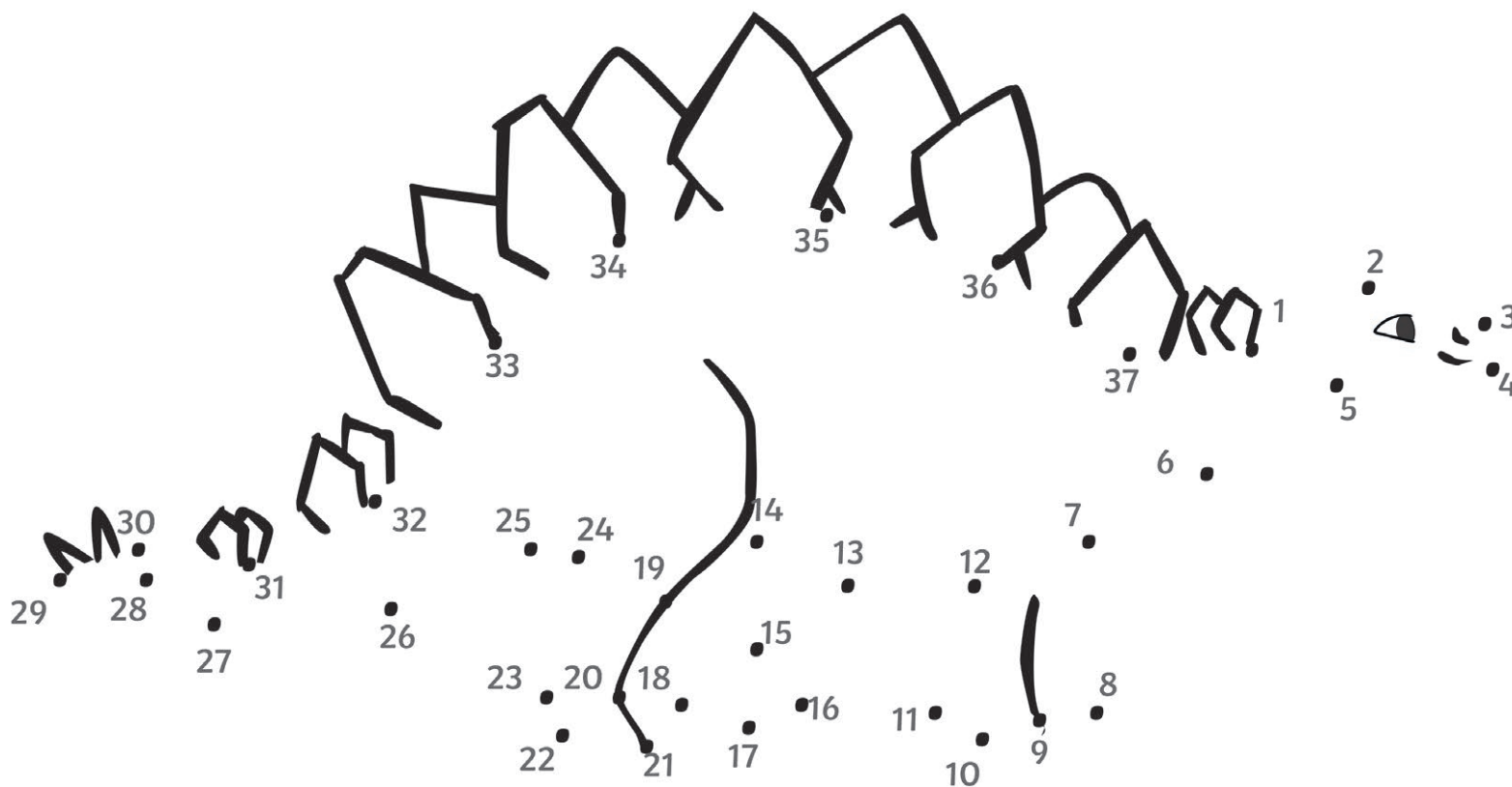




# Dinosaurier - Zahlenbilder (Familien-Erlebnis-Park Dinoland)





- a. Verbinde die Zahlen von der kleinsten Zahl zur größten, um den Dinosaurier erscheinen zu lassen.
- b. Um welchen Dinosaurier handelt es sich? Finde den passenden Dinosaurier im Dinoland, um deine Antwort zu überprüfen.  
Die Zahlen verraten dir, wo du die Dinosaurier im Dinoland findest:

37. Planteosaurus

38. Stegosaurus

39. Maiasaurus



# Dinosaurier - Zahlenbilder (Familien-Erlebnis-Park Dinoland)





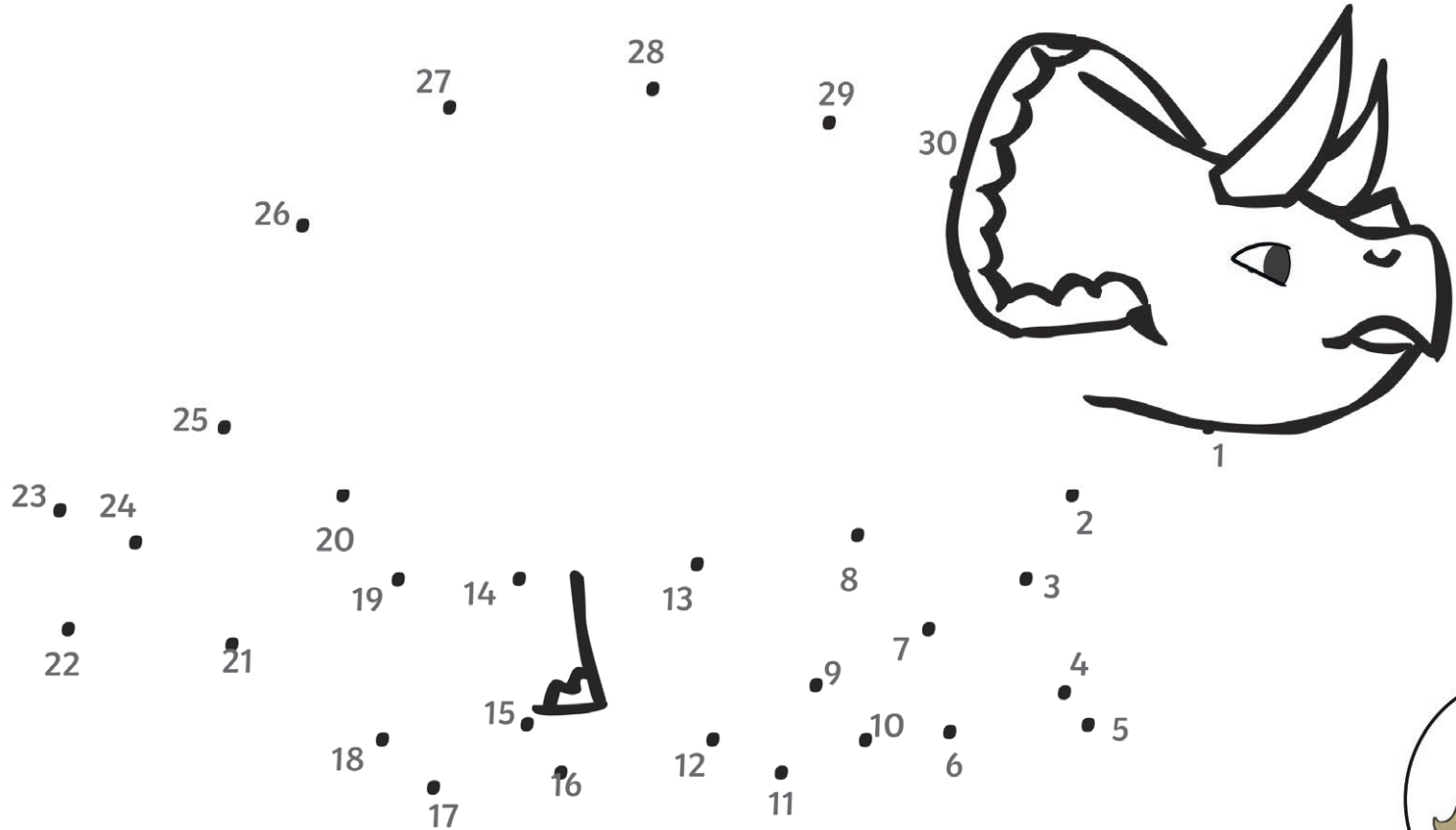
- a. Verbinde die Zahlen von der kleinsten Zahl zur größten, um den Dinosaurier erscheinen zu lassen.
- b. Um welchen Dinosaurier handelt es sich? Finde den passenden Dinosaurier im Dinoland, um deine Antwort zu überprüfen. Die Zahlen verraten dir, wo du die Dinosaurier im Dinoland findest:

27. Torosaurus

28. Torosaurus Baby

29. Tyrannosaurus Rex (T-Rex)

# Dinosaurier - Zahlenbilder (Familien-Erlebnis-Park Dinoland)





- a. Verbinde die Zahlen von der kleinsten Zahl zur größten, um den Dinosaurier erscheinen zu lassen.
- b. Um welchen Dinosaurier handelt es sich? Finde den passenden Dinosaurier im Dinoland, um deine Antwort zu überprüfen.  
Die Zahlen verraten dir, wo du die Dinosaurier im Dinoland findest:


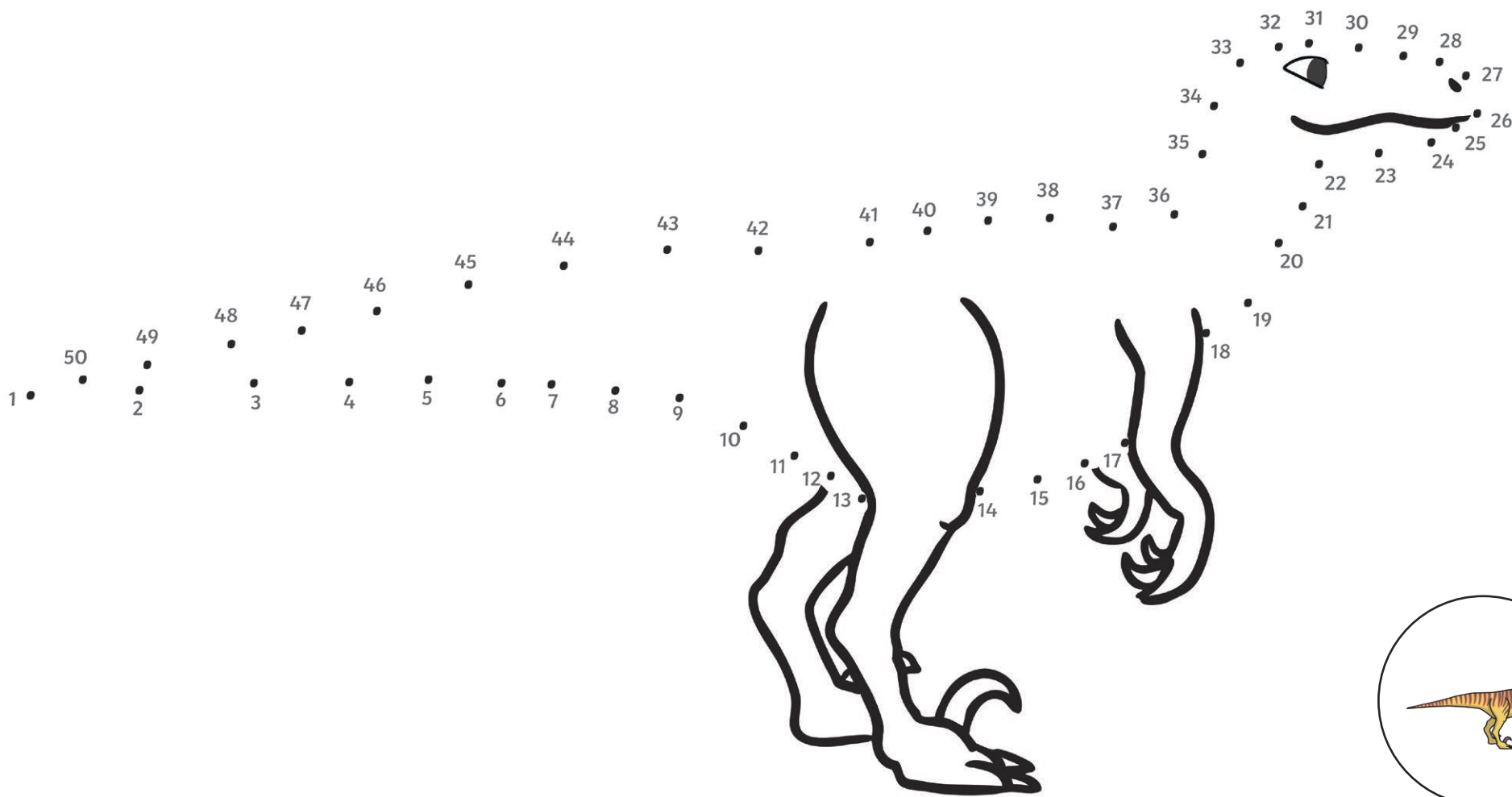
32. Deinonychus

33/34/35. Triceratops

36. Scelidosaurus



# Dinosaurier - Zahlenbilder (Familien-Erlebnis-Park Dinoland)






- a. Verbinde die Zahlen von der kleinsten Zahl zur größten, um den Dinosaurier erscheinen zu lassen.
- b. Um welchen Dinosaurier handelt es sich? Finde den passenden Dinosaurier im Dinoland, um deine Antwort zu überprüfen.  
Die Zahlen verraten dir, wo du die Dinosaurier im Dinoland findest:
- 18. Velociraptor
  - 19. Spinosaurus
  - 20 Struthiosaurus





# Dinosaurier - Zahlenbilder (Familien-Erlebnis-Park Dinoland)





- a. Verbinde die Zahlen von der kleinsten Zahl zur größten, um den Dinosaurier erscheinen zu lassen.
- b. Um welchen Dinosaurier handelt es sich? Finde den passenden Dinosaurier im Dinoland, um deine Antwort zu überprüfen. Die Zahlen verraten dir, wo du die Dinosaurier im Dinoland findest:

56. T-Rex

57. Styracosaurus

58. Apatosaurus